

# PISTE

11-14 anni

Test sulle capacità cognitive  
specifiche della CO

**Esercizi d'esempio**

Cognome:

---

Nome:

---

Anno di nascita:

---

Selezione regionale:

---

Data:

---

Cognome:

Nome:

## Informazioni generali:

- Durata: Il test deve essere completato in circa 30 minuti. Questa durata è sufficiente e non dovrebbe mettere pressione.
- Valutazione:
  - 2 punti per la risposta corretta
  - 0 punti se senza risposta
  - -1 punto per la risposta errata
- La risposta deve essere crociata/marcata in modo chiaro, se la crocetta non è chiara o sono marcate più risposte, l'esercizio viene valutato come non corretto. Si vedano i seguenti esempi:



A	B	C	Valutazione:
<input type="checkbox"/>	<input checked="" type="checkbox"/>	<input type="checkbox"/>	Risposta «B»
<input checked="" type="checkbox"/>	<input checked="" type="checkbox"/>	<input type="checkbox"/>	Risposta «B»
<input type="checkbox"/>	<input checked="" type="checkbox"/>	<input checked="" type="checkbox"/>	Risposta «B»
<input type="checkbox"/>	<input type="checkbox"/>	<input type="checkbox"/>	«Nessuna risposta»
<input checked="" type="checkbox"/>	<input checked="" type="checkbox"/>	<input type="checkbox"/>	«Nessuna risposta»
<input type="checkbox"/>	<input checked="" type="checkbox"/>	<input checked="" type="checkbox"/>	Due risposte => errato
<input checked="" type="checkbox"/>	<input type="checkbox"/>	<input checked="" type="checkbox"/>	Due risposte => errato

Cognome:

Nome:



**Esercizio d' esempio 1:**

Di quale simbolo di cartina si tratta?

No.	Simbolo	A	B	C
1.1		<input type="checkbox"/> Linea elettrica	<input type="checkbox"/> Recinto	<input type="checkbox"/> Ferrovia
1.2		<input type="checkbox"/> Torre alta	<input type="checkbox"/> Mangiatoia	<input type="checkbox"/> Posta del cacciatore

**Esercizio d' esempio 2:**

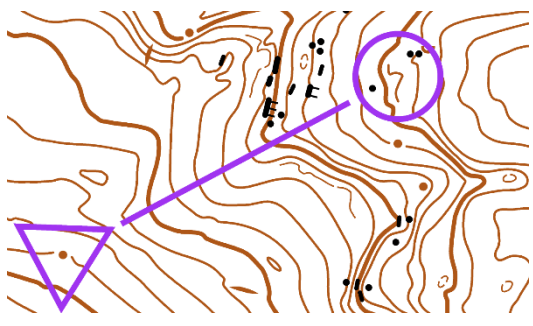
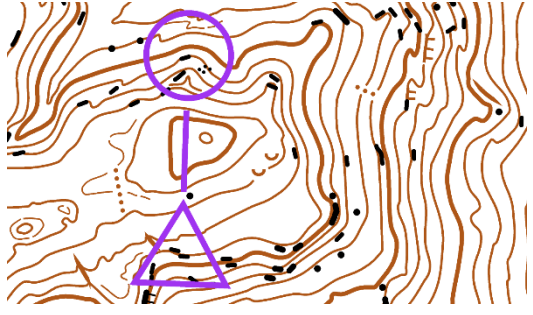
Di quale simbolo della descrizione punti si tratta?

No.	Simbolo	A	B	C
2.1		<input type="checkbox"/> Fossa	<input type="checkbox"/> Taglio di bosco	<input type="checkbox"/> Scala
2.2		<input type="checkbox"/> Rientranza	<input type="checkbox"/> Naso	<input type="checkbox"/> Depressione

**Esercizio d' esempio 3:**

Rilievo: su; giù; su-giù; giù-su

Si riferisce sempre al percorso sotto alla linea dalla partenza al punto

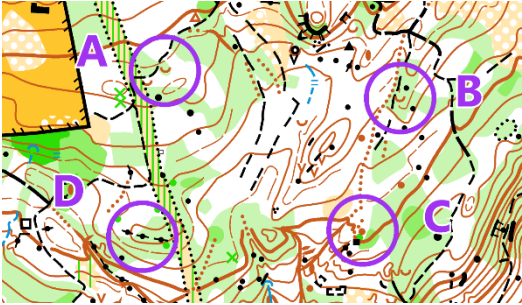
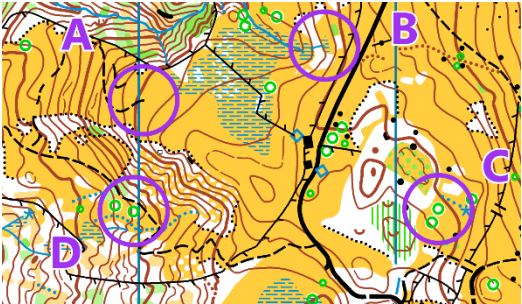
No.		Su	Giù	Su-giù	Giù-su
3.1		<input type="checkbox"/>	<input type="checkbox"/>	<input type="checkbox"/>	<input type="checkbox"/>
3.2		<input type="checkbox"/>	<input type="checkbox"/>	<input type="checkbox"/>	<input type="checkbox"/>

Cognome:

Nome:


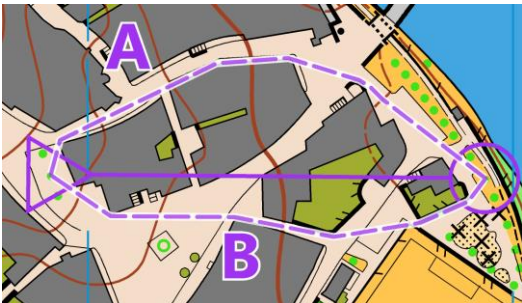
**Esercizio d'esempio 4:**

Punto più in alto

No.	Quale punto si trova più in alto?	A	B	C	D
4.1		<input type="checkbox"/>	<input type="checkbox"/>	<input type="checkbox"/>	<input type="checkbox"/>
4.2		<input type="checkbox"/>	<input type="checkbox"/>	<input type="checkbox"/>	<input type="checkbox"/>

**Esercizio d'esempio 5:**

Scelta più corta






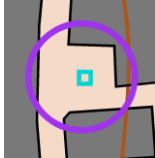
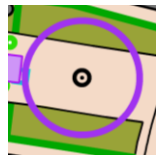
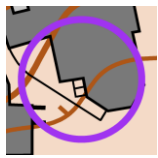
No.	Quale è la scelta più corta?	A	B
5.1		<input type="checkbox"/>	<input type="checkbox"/>
5.2		<input type="checkbox"/>	<input type="checkbox"/>

Cognome:

Nome:

### Esercizio d' esempio 6:

Posizione del punto

No.	Quale posizione del punto è mostrata nella foto?	A	B	C
6.1		 <input type="checkbox"/>	 <input type="checkbox"/>	 <input type="checkbox"/>
6.2		 <input type="checkbox"/>	 <input type="checkbox"/>	 <input type="checkbox"/>

### Esercizio d' esempio 7:

Quale risposta è corretta?

No.	Compito	A	B	C
7.1	<b>Scala: 1:10'000</b> Terreno: <b>150m</b> Cartina: ___???	<input type="checkbox"/> 3cm	<input type="checkbox"/> 1.5cm	<input type="checkbox"/> 15cm
7.2	<b>Scala: 1:4'000</b> Terreno ___??? Cartina: <b>2cm</b>	<input type="checkbox"/> 80m	<input type="checkbox"/> 800m	<input type="checkbox"/> 40m