

PISTE

11 bis 14-Jährige

Test zu OL-spezifischen
kognitiven Fähigkeiten

Musteraufgaben

Name: _____

Vorname: _____

Jahrgang: _____

Region: _____

Datum: _____

Name:

Vorname:



Allgemeine Hinweise:

- Dauer: Der Test soll in rund 30 Minuten absolviert werden. Dies reicht gut und es soll keinen Zeitdruck geben.
- Bewertung:
 - 2 Punkte für korrekte Antwort
 - 0 Punkte für keine Antwort
 - -1 Punkt für falsche Antwort
- Die Antwort muss eindeutig angekreuzt/markiert sein, ist das Kreuz nicht eindeutig oder werden mehrere Lösungen angekreuzt, wird die Aufgabe als falsch bewertet. Siehe folgende Beispiele:

A	B	C	Wertung:
<input type="checkbox"/>	<input checked="" type="checkbox"/>	<input type="checkbox"/>	Antwort «B»
<input checked="" type="checkbox"/>	<input checked="" type="checkbox"/>	<input type="checkbox"/>	Antwort «B»
<input type="checkbox"/>	<input checked="" type="checkbox"/>	<input checked="" type="checkbox"/>	Antwort «B»
<input type="checkbox"/>	<input type="checkbox"/>	<input type="checkbox"/>	«Keine Antwort»
<input checked="" type="checkbox"/>	<input checked="" type="checkbox"/>	<input type="checkbox"/>	«Keine Antwort»
<input type="checkbox"/>	<input checked="" type="checkbox"/>	<input checked="" type="checkbox"/>	Zwei Antworten => falsch
<input checked="" type="checkbox"/>	<input type="checkbox"/>	<input checked="" type="checkbox"/>	Zwei Antworten => falsch



Musteraufgabe 1:

Welches Kartensymbol ist das?

Nr.	Karten-Symbol	A	B	C
1.1		<input type="checkbox"/> Stromleitung	<input type="checkbox"/> Zaun	<input type="checkbox"/> Eisenbahn
1.2		<input type="checkbox"/> Strommast	<input type="checkbox"/> Hochsitz	<input type="checkbox"/> Turm

Musteraufgabe 2:

Welches Postenbeschreibungssymbol ist das?

Nr.	Symbol	A	B	C
2.1		<input type="checkbox"/> Graben	<input type="checkbox"/> Schneise	<input type="checkbox"/> Treppe
2.2		<input type="checkbox"/> Mulde	<input type="checkbox"/> Nase	<input type="checkbox"/> Senke

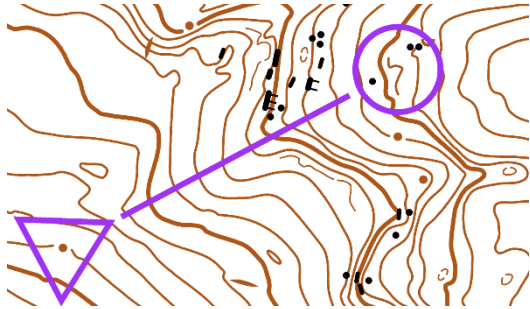
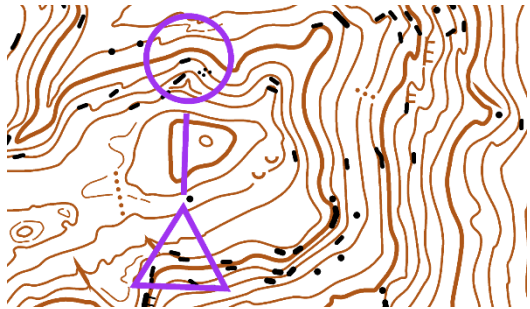
Name:

Vorname:

Musteraufgabe 3:

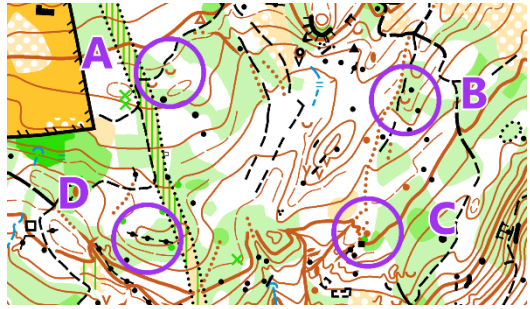
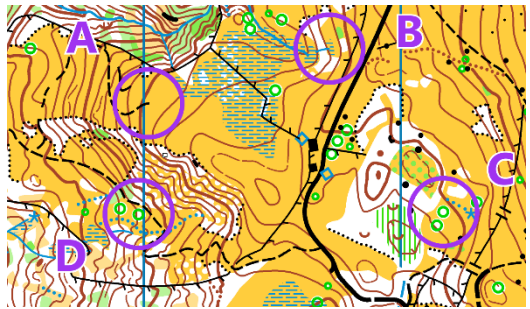
Relief: Auf / Ab / Auf-Ab / Ab-Auf

Bezieht sich immer auf die Strichroute von Start zum Posten

Nr.		Auf	Ab	Auf- Ab	Ab- Auf
3.1		<input type="checkbox"/>	<input type="checkbox"/>	<input type="checkbox"/>	<input type="checkbox"/>
3.2		<input type="checkbox"/>	<input type="checkbox"/>	<input type="checkbox"/>	<input type="checkbox"/>

Musteraufgabe 4:

Höchster Posten


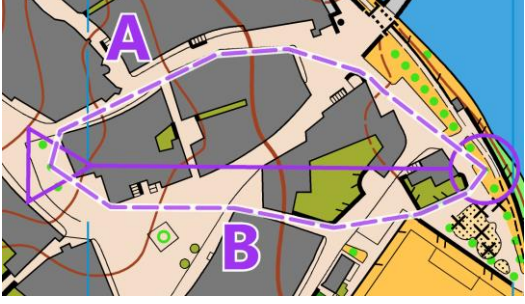
Nr.	Welcher Posten liegt am höchsten?	A	B	C	D
4.1		<input type="checkbox"/>	<input type="checkbox"/>	<input type="checkbox"/>	<input type="checkbox"/>
4.2		<input type="checkbox"/>	<input type="checkbox"/>	<input type="checkbox"/>	<input type="checkbox"/>

Name:

Vorname:



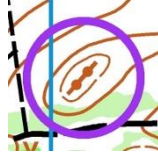

Musteraufgabe 5:

Kürzeste Route

Nr.	Welches ist die kürzeste Route?	A	B
5.1		<input type="checkbox"/>	<input type="checkbox"/>
5.2		<input type="checkbox"/>	<input type="checkbox"/>


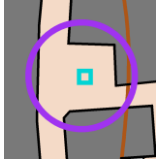


Musteraufgabe 6:

Postenstandort

Nr.	Welcher Postenstandort ist auf dem Foto abgebildet?	A	B	C
6.1		 <input type="checkbox"/>	 <input type="checkbox"/>	 <input type="checkbox"/>

Name:

Vorname:

6.2			 <input type="checkbox"/>	 <input type="checkbox"/>	 <input type="checkbox"/>
-----	---	--	--	---	---

Musteraufgabe 7:

Welche Antwort stimmt?

Nr.	Aufgabe		A		B		C
7.1	Massstab: 1:10'000 Gelände: 150m Karte: ___???	<input type="checkbox"/>	3cm	<input type="checkbox"/>	1.5cm	<input type="checkbox"/>	15cm
7.2	Massstab: 1:4'000 Gelände ___???	<input type="checkbox"/>	80m	<input type="checkbox"/>	800m	<input type="checkbox"/>	40m